

# ひき算のひっ算のしかたを考えよう (1)

①めあてをかくにん


- ・「10のまとまり」「ばら」についてわかと○
- ・まとまりどうし、ばらどうしで計算すると○

②もんだいを読む。

1

けんじさんは、47円 もって います。  
15円の ゼリーを <sup>か</sup> 買います。  
のこりは いくらですか。

15円

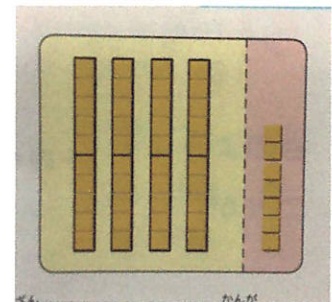


③しきは

$47 - 15 =$  となります。



④「10のまとまり」と「ばら」にわけます。

絵でかいてみよう。(教科書P25をさんこうに。)



47

15



⑤ 「10のまとまり」 どうし

「ばら」 どうしのけいさんをノートにかきましょう。(教科書 p26)

こうた

30      2  
 $30 + 2 = 32$

みさき

$$\begin{array}{r} 47 - 15 \\ \hline 40 \quad 7 \quad 10 \quad 5 \end{array}$$
$$\begin{array}{r} 40 - 10 = \square \\ 7 - 5 = \square \end{array}$$
$$30 + 2 = 32$$


提出をしてください。  
(ノートもしくは、  
プリントアウトしたもの)