


ひき算のひっ算のしかたを考えよう(3)

①めあてをかくにん

くりさがりの筆算ができたなら○

②もんだいを読む


1 ひろこさんは、47円
もっています。18円の
チョコレートを買います。
のこりはいくらですか。



しきは47-18となります。
ひっ算すると・・・

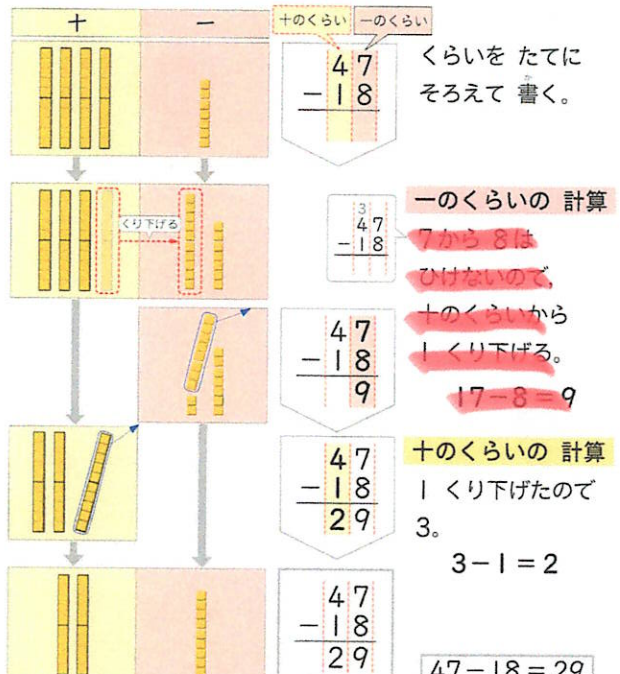
	4	7
-	1	8

この前と同じで～
一の位からけいさん♪
あれ!?
「7-8」???




③ひっ算のしかたをしらべよう。

47-18のひっ算のしかた



十のくらのいから
1くり下げて
(10)
7-8を
17-8にするんだ
十のくらは1小さくなる

十のくらのいから
1くり下げて
(10)
7-8を
17-8にするんだ
十のくらは1小さくなる



$$\begin{array}{r} 40 \\ - 18 \\ \hline \end{array}$$

一のくらいを見て。
 0-8できないね。
 4から1かりて!
 (40) (10)



$$\begin{array}{r} 45 \\ - 38 \\ \hline \end{array}$$

十の位見て。
 一の位に1かした。
 (10)
 「30-30」だね



$$\begin{array}{r} 40 \\ - \quad 8 \\ \hline \end{array}$$

今までの
 やり方をつかえば
 できる

