

ひき算のひっ算のしかたを考えよう(2)

①めあてをかくにん

ひっ算ができるようになると○


②もんだいを読む。

ひっ算のしかたを調べて、計算してみよう。


47-15のひっ算のしかた

+	-	十のくらい	一のくらい	
		4	7	くらいを たてに そろえて書く。
		-	1 5	
				くらいごとに 計算する。
		4	7	一のくらいの計算 7-5=2
		-	1 5	
			3 2	十のくらいの計算 4-1=3
				47-15=32

くらいをそろえて
けいさんすることかポイントだね



この「4」は「40」のことだね
じゃあ「1」は？



	4	7
-	1	5


一の位から
けいさんするといひよ



③色んなひき算のひっ算にちょうせんしよう。


	3	6
-	2	6
<hr/>		

一の位をみて。
「6-6」どうする？




	3	6
-	3	2
<hr/>		

十の位みて。
「30-30」は0だけど...



	3	6
-		2
<hr/>		

十の位
「3-」どうする？

