



小つぼさんは、だがしやで 24円の
いちごあめと 38円の ポテチを
かいました。



だいき金は、いくらに なりますか。

①もんだいを、声に出して 読みましょう。

②よそうを 立てよう。



じぶんのよそう

()円くらい

③しきを 立てよう。

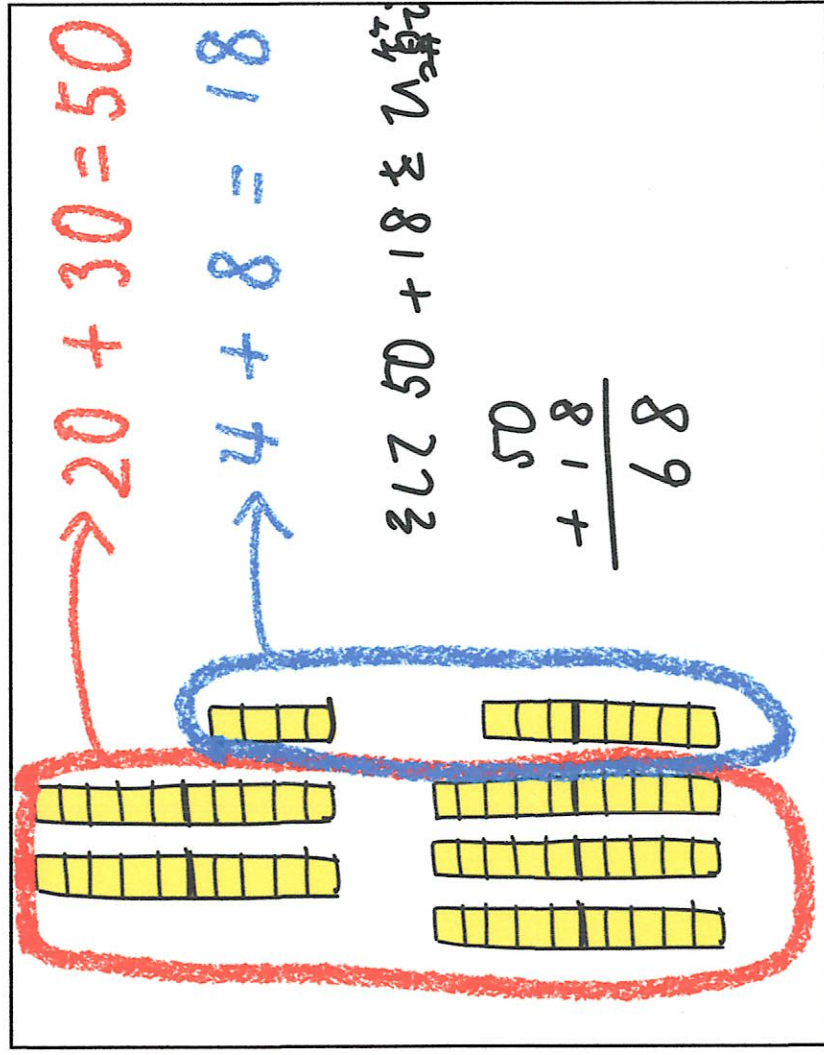
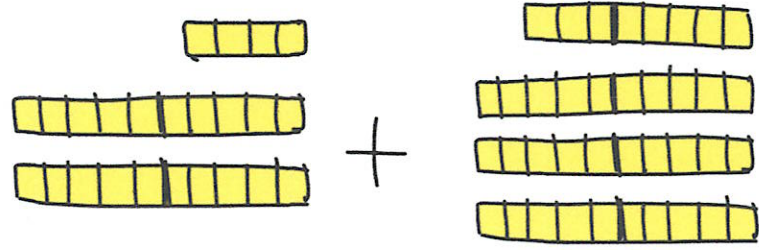
④ずにして、けいさんのし方を 考えよう。

また、さんすうブロックで考えてみようかな。



しきは、 $24 + 38$ です。

50円でかえるでしょうか。うーん、ちょっと たりませんよね。20円と30円たすと、それだけで50円に なってしまいます。



10のまとまりどうし、ばら^らどうしで たして、それをあわせると、68円になりました。小つぼさん、このあいだよりも お金つかっていいですね。

つぎは、このけい算を ひっ算を つかって もっとかんとんにする やり方を べんきようしましょう。