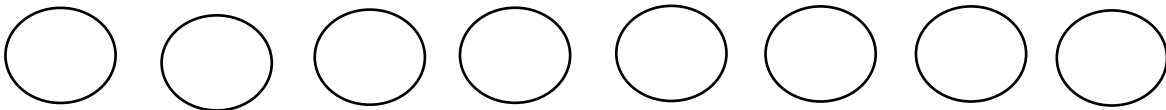


① けいさんしましょう

- ① $3 + 5 =$
- ② $5 + 2 =$
- ③ $4 + 3 =$
- ④ $3 + 1 =$
- ⑤ $6 + 3 =$
- ⑥ $5 + 4 =$


② ひだりから5つの○をぬりましょう。







③ あいている□にすうじをいれましょう

- ① $3 - 4 - \square - 6 - 7 - \square$
- ② $\square - 9 - 8 - \square - 6 - \square$

④ ずけいをかぞえて () にかずをいれましょう。



-  () こ
-  () こ
-  () こ
-  () こ