

① □の中にすうじをいれてけいさんがあうようにしよう。

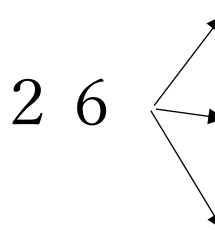
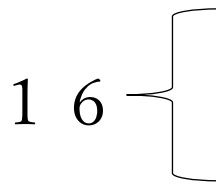
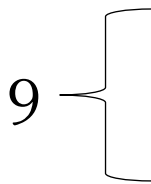
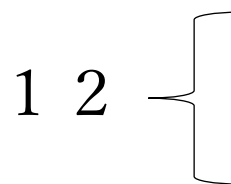
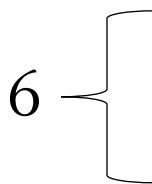
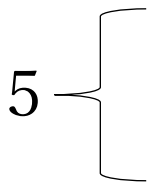
① □ + □ = 4

② □ - □ = 8

③ □ + □ - □ = 2

何とおりもくみあわせがあるよ。いくつ見つけれ  
れるかな？  
一つのもんだいにつき  
めざせ！3つずつ

② かずはいくつといくつにわけられるでしょう？



③ たまごが10こありました。オムライスをつくるのに6こつかいました。  
そのあと、お母さんが新しく5こかってきてくれました。いまたまごはいく  
つですか。

(しき)

 こ