


小つぼさんは、だがしやで 24円の いちごあめと
12円の ラムネを かいました。



だいきは、いくらに なりますか。

①もんだいを、声に出して 読みましょう。

②よそうを 立てよう。

だいたい
なん十円に
なるかなあ。



じぶんのよそう ()円くらい

③しきを たてよう。

④ずにして、けいさんのし方を 考えよう。

ノートに書きましょう。ノートはあつめます。

さんすうブロックで 考えることが できるね。



ずに、せんを書いたり、せつめいを入れてもいいね。



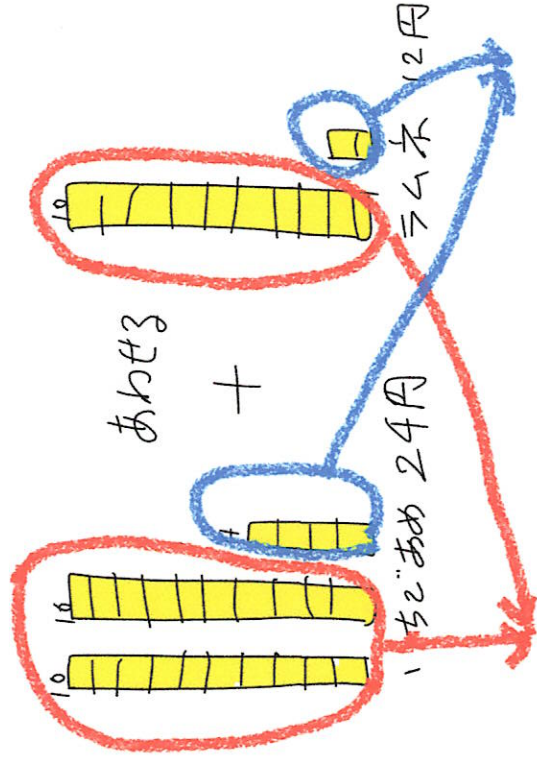
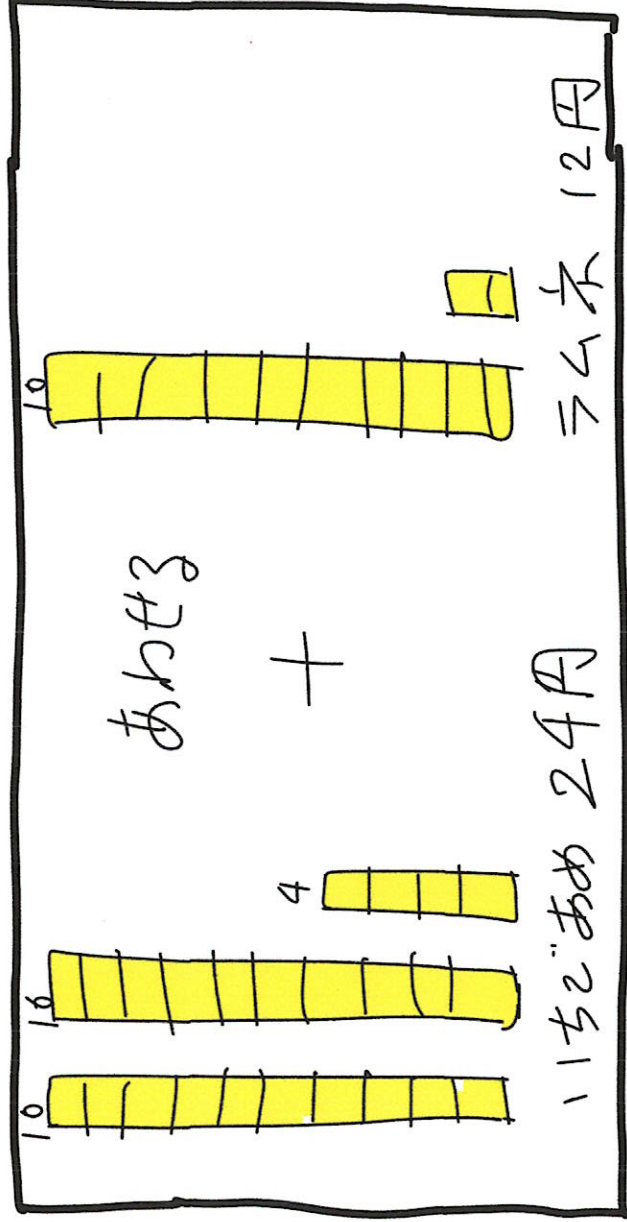
では、いっしょに見ていきましょう。

③しき $24+12$

いちごあめと ラムネ、二つをかけた だい金なので、たし算ですね。

④ずは、10のまとまりを つかって 書くことができましたか？

すう字で 書いた人もいます。どちらも 10のまとまりを つかうと、けいさんしやすくなりますね。



$$20+10=30 \quad 4+2=6$$

だから あわせると、 $30+6=36$

★まとめ

2けた+2けたのたし算をするときは、10のまとまりどうし、ばらどうしにわけて けい算しましょう。