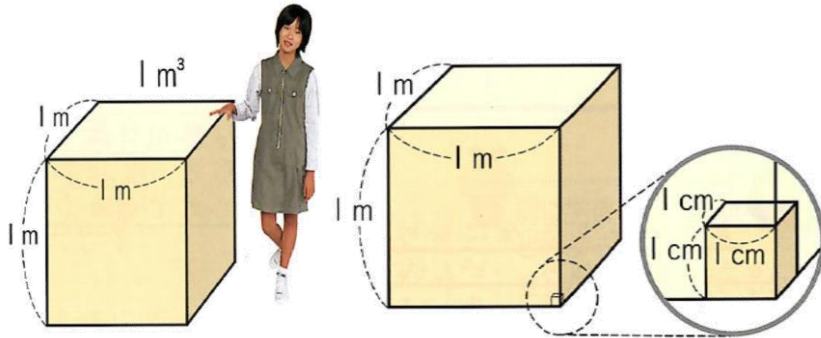


直方体や立方体のかさの表し方を考えよう

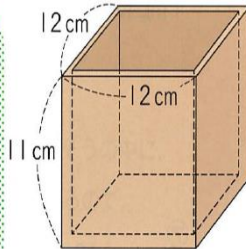
めあて

いろいろな体積の単位を知ろう。パート2



$$1 \text{ L} = 1000 \text{ cm}^3$$

2 あつ厚さ1 cmの板で、右のような直方体の形をした入れ物を作りました。この入れ物に入る水の体積は何 cm^3 ですか。

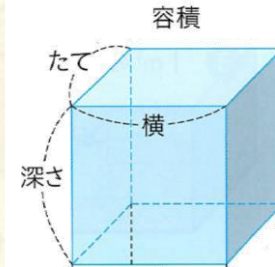


1. 教科書 p27 を開きましょう。

① 問題 **2** **1** をノートに解きましょう。

② 下の分を読んで、ノートに書きましょう。

入れ物の内側の長さを、内のりと
いいます。
また、入れ物の中いっぱいに入る
水などの体積を、その入れ物の容積
と
いいます。



③ 教科書 p28 **2** **3** の問題を教科書に解きましょう。

④ 教科書 p29 **4** をノートに解きましょう。

⑤ **3** をノートに解きましょう。