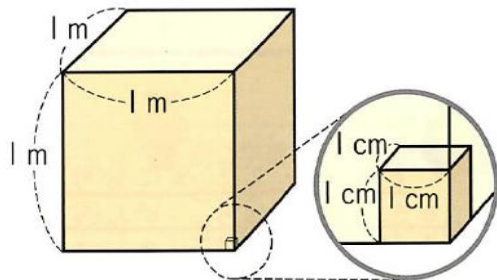
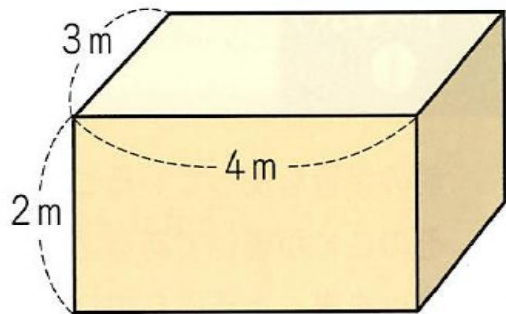
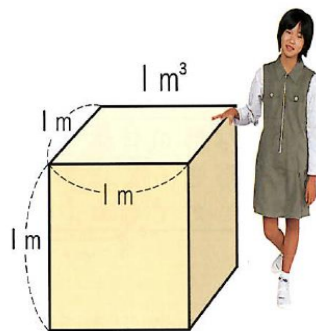


直方体や立方体のかさの表し方を考えよう

めあて

いろいろな体積の単位を知ろう。

1辺が1mの立方体の
体積を リッポウ 1立方メートルと
いい、 1m^3 と書きます。



1. 教科書 p 26 を開きましょう。

① 下のまとめを読んで、ノートに書きましょう。



まとめ

大きなものの体積を表すには、1辺が1mの立方体の体積を単位にする。



もとにする大きさを変えればいいね。

② 左の直方体の体積を求めよう。

③ 1m^3 の立方体の中には、 1cm^3 の立方体が何個入るか求めよう。

2. 教科書 p 27 を開きましょう。

① **3** の□に数字を入れましょう。

② **1** の問題を解こう。