
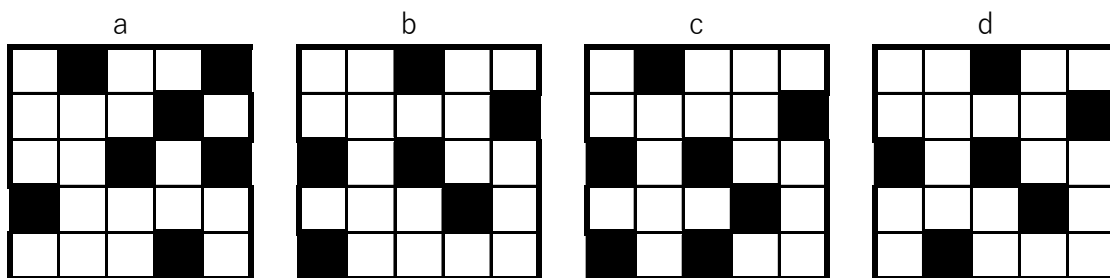


規則性クイズ


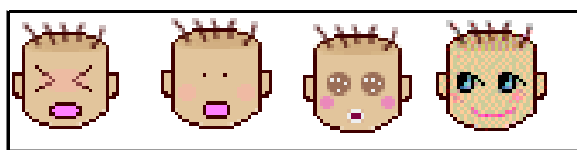
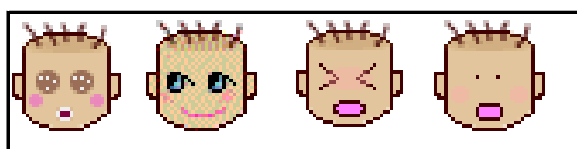
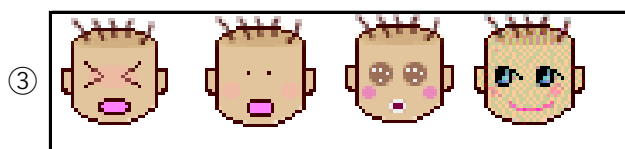
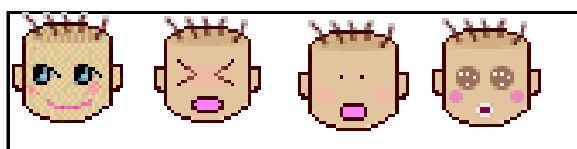
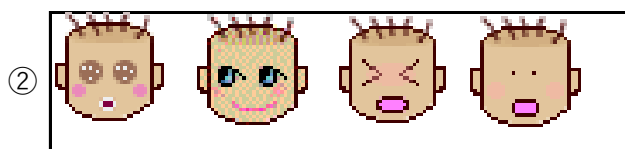

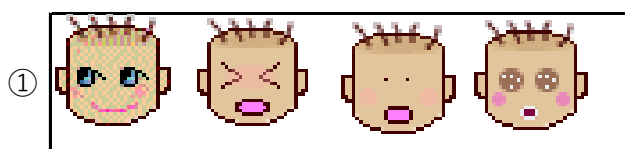
(1) ①～⑤まである規則にしたがって黒い部分がふえていきます。⑥はa～dのどれになりますか。



答え⑥



(2) ①～⑤まである規則にしたがって顔が右に移動しています。顔の順は変わりません。⑥はa～dのどれになりますか。



答え
⑥



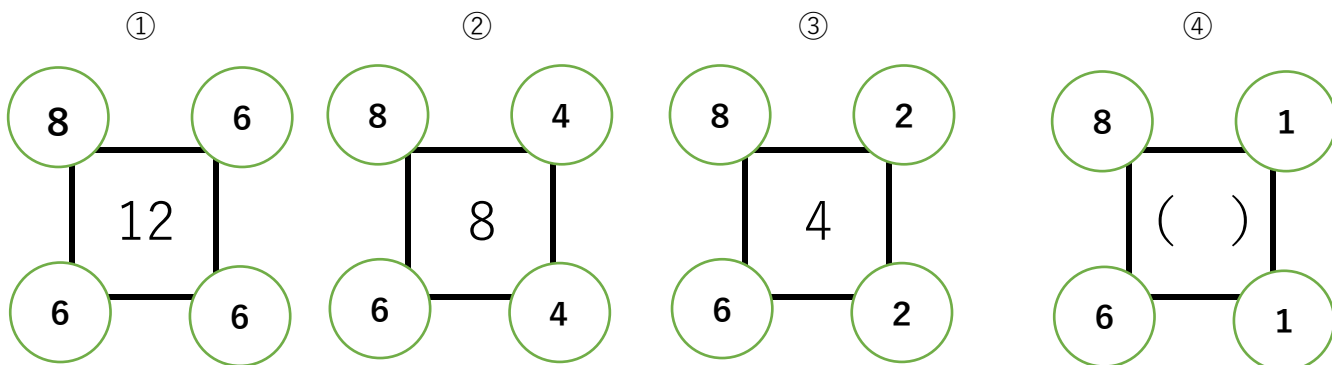
(3) ①～⑤まである規則にしたがって顔が移動しています。⑥はa～dのどれになりますか。

①	②	③	④	⑤
a	b	c	d	答え⑥
				<div style="border: 1px solid black; height: 60px; width: 100%;"></div>

(4) ①～⑤まである規則にしたがって顔の向きが変わっています。⑥はa～dのどれになりますか。

①	②	③	④	⑤
a	b	c	d	答え⑥
				<div style="border: 1px solid black; height: 60px; width: 100%;"></div>

(5) ①～③の中央の数は、周りの数を (×と-) まである規則にしたがって丸の中の数字を計算し中央の数をだしています。



答え①c ②d ③d ④a ⑤2